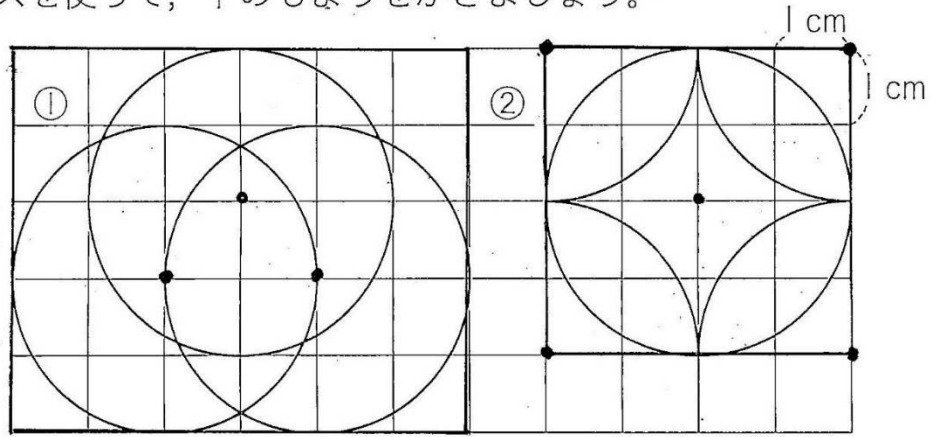
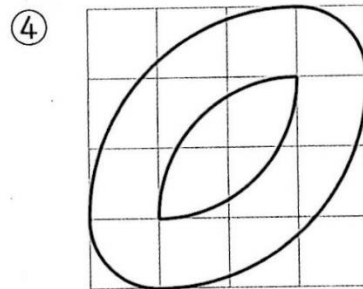
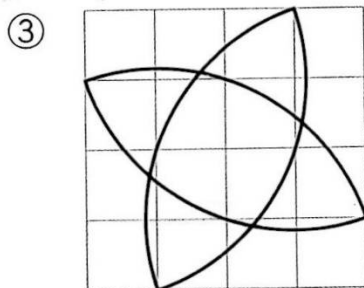
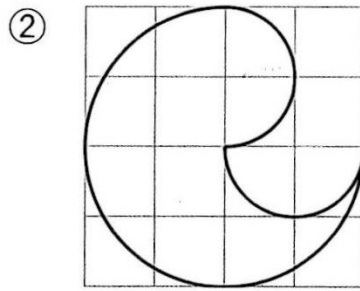
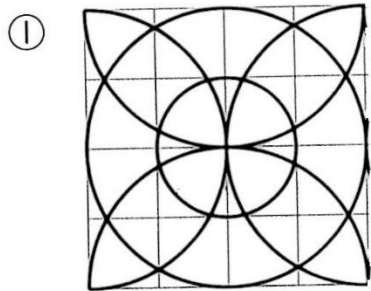
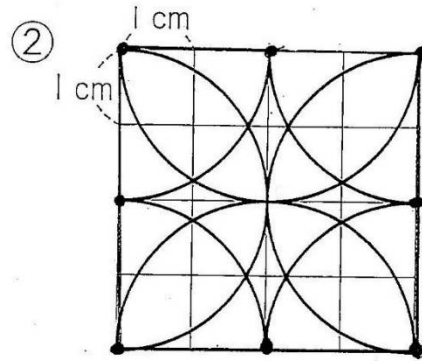
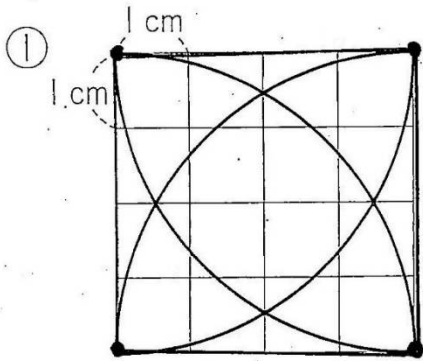


3年 12. 円と球④

コンパスを使って、下のもようをかきましょう。



• 中心      外わくをかいてから



3年 12. 円と球⑤



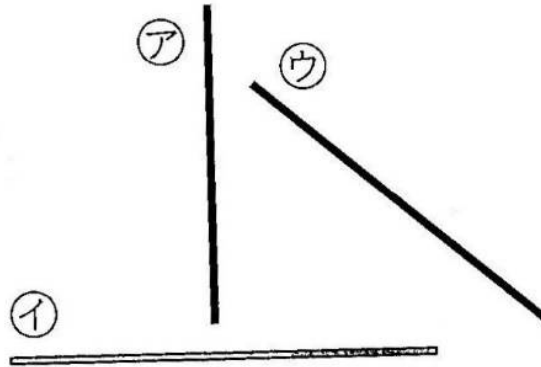
だいきの家～ゆうびんポスト

だいきの家～ゆうびん局

問 どちらが近いでしょう。

3年 12. 円と球⑥

3本の直線の長さをくらべ、長いじゅんにいしましょう。



ア | \_\_\_\_\_

イ | \_\_\_\_\_

ウ | \_\_\_\_\_

こたえ → \_\_\_\_\_

コンパスを使って、下の直線を 3cm ずつに区切りましょう。

